

CURSO CACD

CONCURSO DE ADMISSÃO À
CARREIRA DE DIPLOMATA

CACD – 3ª FASE

**Provas discursivas
de Geografia**

CACD 2003–2023

PROFESSOR
BRUNO REZENDE

www.cursocacd.com

EDITAL Nº 1, DE 28 DE JUNHO DE 2023
CONCURSO DE ADMISSÃO À CARREIRA DE DIPLOMATA

**Terceira
Fase**

Dia 1

**Terceiro-Secretário
da Carreira de Diplomata**

Data da prova:
Sexta-feira, 27/10/2023
(Tarde)

PROVA DE GEOGRAFIA

INSTRUÇÕES

- Você recebeu 1 (um) caderno de provas contendo 4 (quatro) questões discursivas.
- Verifique se a paginação do caderno de provas está correta.
- Você dispõe de 4 (quatro) horas para fazer as questões discursivas, devendo controlar o tempo, pois não haverá prorrogação desse prazo. Esse tempo inclui a transcrição para as folhas de texto definitivo.
- Somente 1 (uma) hora após o início da prova, você poderá entregar suas folhas de texto definitivo e o caderno de provas e retirar-se da sala.
- Somente será permitido levar o caderno de provas 3 (três) horas e 45 (quarenta e cinco) minutos após o início da prova.
- Deixe sobre a carteira apenas o documento de identidade e a caneta esferográfica de tinta preta, fabricada com material transparente. Não será permitida a utilização de lápis em nenhuma etapa das provas.
- Não é permitida a utilização de nenhum aparelho eletrônico ou de comunicação.
- Não é permitida a consulta a livros, dicionários, apontamentos e (ou) apostilas.
- Você somente poderá sair e retornar à sala de aplicação de provas na companhia de um fiscal do IADES.
- O espaço para rascunho, contido no caderno de provas, é de preenchimento facultativo e não valerá para avaliação das questões discursivas.

Tipo “U”

QUESTÃO 1

Leia, com atenção, o excerto a seguir.

A literatura a respeito de redes urbanas aponta, já há algum tempo, para a diversidade dos inúmeros conjuntos articulados de centros urbanos. Diversidade real que, entretanto, não diminui o mérito, ao contrário, enfatiza a necessidade de esforços de elaboração de tipos ideais e modelos hipotético-dedutivos acerca da rede urbana, como são, entre outras, as formulações de Christaller, Lösch e Zipf. A diversidade refere-se às possíveis combinações dos mesmos elementos que, entretanto, ao se concretizarem, o fazem de modo específico, pois cada um desses elementos assume uma própria especificidade. Entre outros elementos, estão a gênese dos centros, o tamanho deles, a densidade que perfazem no espaço, as funções urbanas e as relações espaciais que delas derivam. Outros elementos, de natureza política, social e cultural, considerados menos frequentemente na literatura, podem ser agregados, explicitando mais nitidamente a rica e complexa diversidade de redes urbanas.

CORRÊA, R. L. Rede urbana e formação espacial: uma reflexão considerando o Brasil. *Revista Território*, Rio de Janeiro, ano V, n. 8, pp. 121-129, jan./jun., 2000. Disponível em: <<https://www2.ufjf.br/nugea/files/2014/09/Rede-urbana-Lobato.pdf>>. Acesso em: 6 set. 2023.

Considerando que o excerto apresentado tem caráter meramente motivador, redija um texto dissertativo analisando o processo de urbanização e a formação de redes urbanas sob a perspectiva geográfica. Aborde, necessariamente, os seguintes tópicos:

- a) a concepção e a conceituação de rede urbana;
- b) as categorias de análise da rede urbana;
- c) a natureza dialética da rede urbana como realidade espacial;
- d) as interações espaciais na constituição da rede urbana e a tipologia dos padrões de interações espaciais;
- e) a relação entre urbanização e formação das redes urbanas.

Extensão do texto: até 60 linhas
[valor: 30,00 pontos]

QUESTÃO 2

Leia, com atenção, o excerto a seguir.

Diversos estudos apontam uma crise da água. A principal razão é política. A falta dessa substância natural vital à vida em determinados locais poderia ser resolvida por meio de uso de técnicas conhecidas de estocagem e reaproveitamento da água [...]. Água é fonte de conflitos porque sua distribuição natural não corresponde à sua distribuição política. Em alguns países, os recursos hídricos são mais que suficientes para abastecer as necessidades de seu povo. Mas eles são raros em outros. Como o estilo de vida hegemônico está baseado no consumo incessante de mercadorias, o uso da água para a produção industrial tende a aumentar, o que pode desencadear novos conflitos pelo seu acesso.

RIBEIRO, Wagner Costa. *In: Geografia política da água*. São Paulo: Annablume, 2008.

Considerando que o excerto apresentado tem caráter meramente motivador, redija um texto dissertativo a respeito da referida temática. Aborde, necessariamente os seguintes tópicos, com a devida exemplificação:

- a) a distribuição desigual do recurso pelo planeta e especialmente no Brasil – sobre as diferenças entre ecossistemas;
- b) os usos e os acessos da água nas áreas urbanas, agrícolas, industriais, rurais e domésticas;
- c) a ordem ambiental internacional e a importância do Brasil nesse cenário; e
- d) as possíveis soluções para a crise global.

Extensão do texto: até 60 linhas
[valor: 30,00 pontos]

QUESTÃO 3

Leia, com atenção, o excerto e os dados a seguir.

Os dados do Censo Demográfico 2022, realizado pelo Instituto Brasileiro de Geografia e Estatística (IBGE) indicam que houve crescimento da população brasileira de 190.755.799 habitantes residentes em 2010 para 203.062.512 em 2022, com aumento de cerca de 6,5% entre os dois períodos censitários.

Tabela: Crescimento absoluto e relativo por faixa de tamanho de município

Faixa de tamanho de população do município em 2022	População 2010	População 2022	Crescimento absoluto 2010-2022	Crescimento relativo 2010-2022 (%)
Mais de 2 milhões	29.459.099	29.705.526	246.427	0,84
Entre 750 mil e 2 milhões	18.179.724	18.412.610	232.886	1,28
Entre 250 mil e 750 mil	32.920.251	36.940.307	4.020.056	12,21
Entre 100 mil e 250 mil	27.004.531	30.586.691	3.582.160	13,27
Entre 50 mil e 100 mil	21.119.901	23.417.569	2.297.668	10,88
Entre 20 mil e 50 mil	30.237.886	32.006.964	1.769.078	5,85
Entre 10 mil e 20 mil	18.953.167	19.208.533	255.366	1,35
Entre 5 mil e 10 mil	8.344.014	8.341.946	-2.068	-0,02
Menos de 5 mil	4.537.226	4.442.366	-94.860	-2,09
Total Brasil	190.755.799	203.062.512	12.306.713	6,45

Fonte: Censo Demográfico 2022 (IBGE, 2023)

Os dados do Censo Demográfico 2022 indicam que o número de população total do Brasil ficou abaixo das projeções anteriores do órgão. Em 2021, o prognóstico apontava que o País teria pelo menos 213 milhões de habitantes. Em dezembro de 2022, já com dados prévios do levantamento, o IBGE revisou a estimativa para 207,7 milhões, e os dados finais indicaram uma população menor ainda com aproximadamente 203 milhões de habitantes.

Outro dado importante é que o crescimento populacional foi maior no interior do que em capitais – 66,58% dos novos habitantes concentraram-se em regiões fora desses grandes centros urbanos.

Disponível em: <<https://g1.globo.com/economia/censo/noticia/2023/06/28/censo-2022-brasil-tem-203-milhoes-de-habitantes-47-milhoes-a-menos-que-estimativa-do-ibge.ghtml>>. Acesso em: 15 set. 2023, com adaptações.

Considerando que o excerto apresentado e os dados da tabela têm caráter meramente motivador, redija um texto analítico abordando os seguintes tópicos:

- causas da queda do crescimento da população brasileira;
- fatores que levam ao crescimento das cidades na faixa de população entre 750 e 50 mil habitantes;
- fatores que explicam a perda de população em municípios-sede de regiões metropolitanas; e
- crescimento das cidades no entorno das metrópoles.

Extensão do texto: até 40 linhas
[valor: 20,00 pontos]

QUESTÃO 4

Leia, com atenção, o excerto a seguir.

Os domínios morfoclimáticos brasileiros, domínios espaciais de feições paisagísticas e ecológicas integradas, ocorrem em uma espécie de área principal, de certa dimensão e arranjo, em que as condições fisiográficas e biogeográficas formam um complexo relativamente homogêneo e extensivo. A essa área mais típica e contínua – via de regra, de arranjo poligonal – aplicamos o nome de área core, logo traduzida por área nuclear – termos indiferentemente empregados segundo o gosto e as preferências de cada pesquisador. Entre o corpo espacial nuclear de um domínio paisagístico e ecológico e as áreas nucleares de outros domínios vizinhos – totalmente diversos –, existe sempre um interespaço de transição e de contato, que afeta de modo mais sensível os componentes da vegetação, os tipos de solo e sua forma de distribuição e, até certo ponto, as próprias feições de detalhe do relevo regional.

AB'SABER, A. N. *Os domínios de natureza no Brasil: potencialidades paisagísticas*. São Paulo: Ateliê Editorial, 2003, com adaptações.

Considerando que o excerto apresentado tem caráter meramente motivador, redija um texto que descreva a macro divisão natural do espaço brasileiro por meio dos domínios morfoclimáticos. Aborde, necessariamente, os seguintes tópicos:

- contexto histórico e conceituação de domínios morfoclimáticos;
- características físicas dos domínios morfoclimáticos brasileiros e faixas de transição; e
- principais impactos ambientais sobre os domínios morfoclimáticos brasileiros.

Extensão do texto: até 40 linhas
[valor: 20,00 pontos]

EDITAL Nº 1, DE 15 DE FEVEREIRO DE 2022
CONCURSO DE ADMISSÃO À CARREIRA DE DIPLOMATA

CARGO:
TERCEIRO-SECRETÁRIO DA CARREIRA DE DIPLOMATA

TERCEIRA FASE

DIA 1

TURNO

TARDE

Data da prova:

Sexta-feira, 27/5/2022.

PROVA DE GEOGRAFIA

INSTRUÇÕES

- O candidato receberá 1 (um) caderno de provas contendo 4 (quatro) questões discursivas.
- Verifique se a paginação do caderno de provas discursivas está correta.
- Você dispõe de 4 (quatro) horas para fazer as provas discursivas, devendo controlar o tempo, pois não haverá prorrogação desse prazo. Esse tempo inclui a transcrição para as folhas de texto definitivo.
- Somente 1 (uma) hora após o início da prova, você poderá entregar suas folhas de texto definitivo e o caderno de provas e retirar-se da sala.
- Somente será permitido levar o caderno de provas 3 (três) horas e 45 (quarenta e cinco) minutos após o início da prova.
- Deixe sobre a carteira apenas o documento de identidade e a caneta esferográfica de tinta preta, fabricada com material transparente. Não será permitida a utilização de lápis em nenhuma etapa das provas.
- Não é permitida a utilização de nenhum aparelho eletrônico ou de comunicação.
- Não é permitida a consulta a livros, dicionários, apontamentos e (ou) apostilas.
- Você somente poderá sair e retornar à sala de aplicação de provas na companhia de um fiscal do IADES.
- O espaço para rascunho, contido no caderno de provas, é de preenchimento facultativo e não valerá para avaliação das provas discursivas.

Tipo “U”

QUESTÃO 1

Leia, com atenção, o excerto a seguir.

A ideia de que, em períodos de crise, os fluxos imigratórios se interrompem torna-se muito mais difícil de ser sustentada no início do século 21, que é marcado de uma forma sem precedentes na história pelos fluxos migratórios dos mais diversos tipos e compõe o que Castles e Miller (1993) chamaram de a “era das migrações”. Todavia, os fatores de contradição do funcionamento do sistema econômico em escala global – sobretudo a produção das desigualdades, de conflitos e guerras, os efeitos para a população da destruição do meio ambiente, o desemprego e a degradação do trabalho (BASSO, 2018) – não se interrompem, tampouco as expectativas dos emigrantes e dos refugiados de buscarem melhores condições de vida ou de lutarem pela sobrevivência.

VILLEN, Patrícia. Impactos da crise na migração internacional no Brasil. In: BAPTISTA, Dulce Maria Tourinho; MAGALHÃES, Luís Felipe Aires (orgs.). *Migrações em expansão no mundo em crise*. São Paulo: EDUC/PIPEq, 2020, com adaptações.

Considerando que o excerto apresentado tem caráter meramente motivador, redija um texto dissertativo analisando o fenômeno migratório no mundo e no Brasil. Aborde, necessariamente, os seguintes tópicos:

- as tradicionais e novas motivações que perpetuam as migrações, citando pelo menos um exemplo;
- o crescente número de refugiados e apátridas em meio ao cenário das migrações do século 21;
- os efeitos sociais e culturais das migrações nos países que recebem esses grandes fluxos;
- os países que mais recebem os fluxos e possuem pouca visibilidade;
- a migração e as redes de tráfico humano;
- a atuação da comunidade internacional e das agências multilaterais diante do fenômeno, incluindo-se os refugiados;
- o quadro da migração internacional no Brasil no século 21; e
- a institucionalidade do tema no Estado brasileiro, incluindo-se as questões laborais e a abordagem legal.

Extensão do texto: até 60 linhas
[valor: 30,00 pontos]

QUESTÃO 2

Leia, com atenção, o excerto a seguir.

As atuais dinâmicas socioespaciais do território brasileiro indicam que as maiores cidades continuarão a crescer paralelamente à constituição de novas centralidades urbanas intermediárias. Tais fenômenos, aparentemente contraditórios, são, na verdade, complementares. O que ocorre é uma reorganização dos espaços e da rede urbana do País, que acompanha uma nova divisão territorial do trabalho (SANTOS, 2009).

NUNES, Débora Aquino; TRINDADE JR., Saint-Clair Cordeiro da; TRINDADE, Gesiane Oliveira da. Cidades médias na Amazônia brasileira: da centralidade econômica à centralidade política de Marabá e Santarém (Estado do Pará). *Confins [On-line]*, 29 | 2016, posto *on-line* no dia 25 de novembro de 2021, consultado em 29 de abril de 2022. Disponível em: <<http://journals.openedition.org/confins/11376>>. DOI: <<https://doi.org/10.4000/confins.11376>>. Acesso em: 29 abr. 2022, com adaptações.

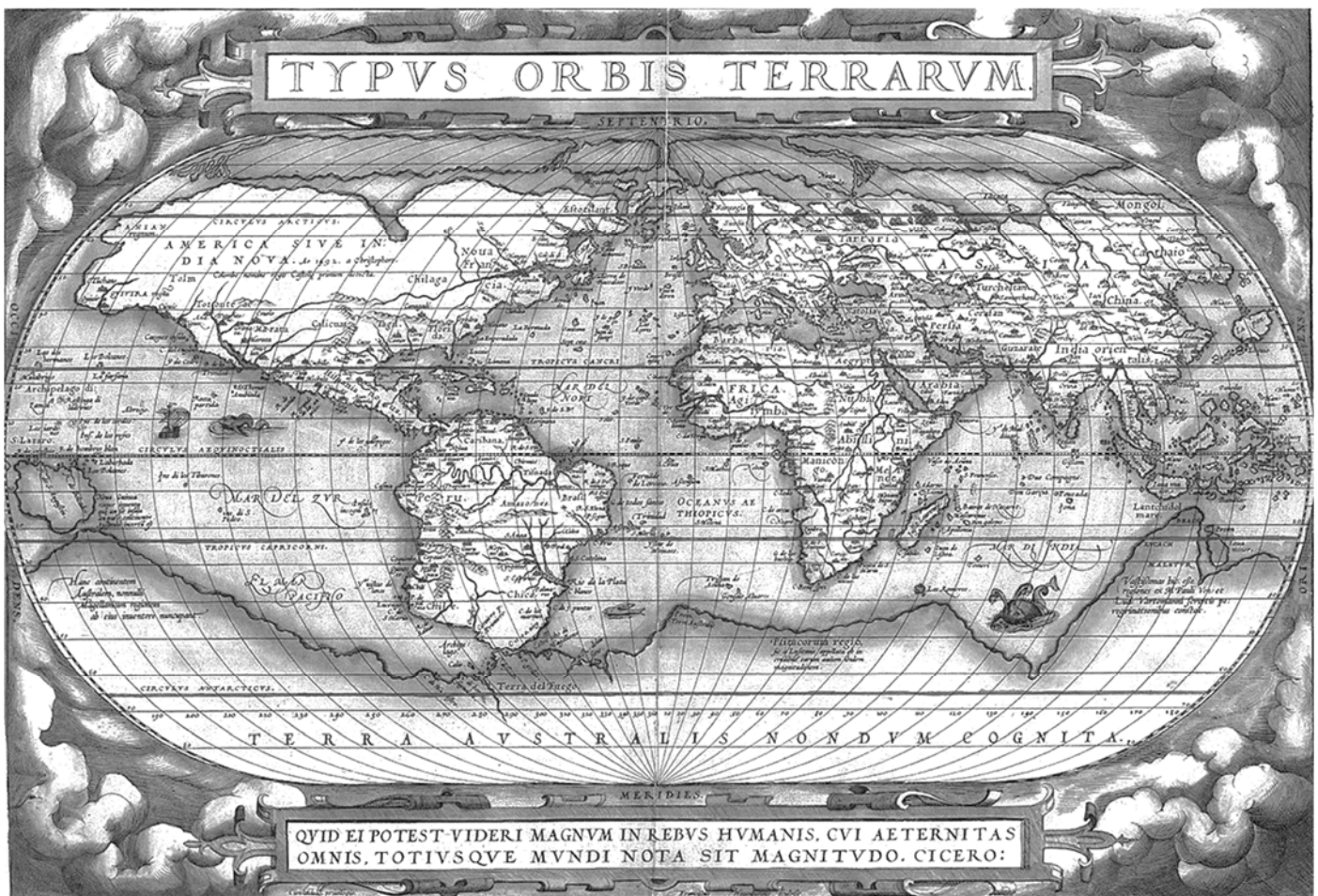
Considerando que o excerto apresentado tem caráter meramente motivador, redija um texto dissertativo analisando as dinâmicas relacionadas às cidades médias na Amazônia brasileira e suas funcionalidades. Aborde, necessariamente, os seguintes tópicos:

- conceituação de cidade média nos estudos a respeito de rede urbana no Brasil;
- cidades médias na Amazônia e suas relações com a rede fluvial e rodoviária;
- relações entre cidades médias na Amazônia e as frentes de ocupação *versus* modernização do território; e
- desigualdades socioespaciais e cidades médias na Amazônia.

Extensão do texto: até 60 linhas
[valor: 30,00 pontos]

QUESTÃO 3

Observe a figura e leia, com atenção, o excerto a seguir.



Mapa Theatrum Orbis Terrarum (Teatro do Mundo), de Abraham Ortelius.
Disponível em: <<https://www.magnusmundi.com/a-evolucao-do-mapa-mundi/>>. Acesso em: 30 abr. 2022.

A evolução das ciências do homem e da sociedade, por conseguinte, é marcada, ao mesmo tempo, pela transformação daquelas que existem há muito tempo – o estudo das línguas, a história e a geografia –, pelo reforço daquelas que nasceram na época das luzes – a economia política – e pelo aparecimento da sociologia e psicologia.

CLAVAL, Paul. *Epistemologia da Geografia*. Florianópolis: EDUFSC, 2014.

Considerando que essa figura, a qual ilustra um dos principais símbolos do conhecimento geográfico, o mapa e o excerto apresentado, que contextualiza o nascimento da geografia como corpo científico sistematizado e com método próprio, têm caráter meramente motivador, redija um texto dissertativo abordando os seguintes tópicos:

- conhecimentos geográficos que antecedem a geografia como ciência;
- origens da geografia e da escola determinista;
- o possibilismo como reação à escola determinista;
- o paradigma regional nos estudos da geografia;
- a emergência da nova geografia e sua aplicação;
- o despontar da geografia crítica e seu engajamento político; e
- novas abordagens da geografia sob a perspectiva cultural e fenomenológica.

Extensão do texto: até 40 linhas
[valor: 20,00 pontos]

QUESTÃO 4

Leia, com atenção, os excertos a seguir.

Os *chips* estão presentes em todos os aparelhos eletrônicos – do celular ao computador, do eletrodoméstico ao automóvel. É importante ter em mente que existem tipos diferentes de *chips*, com funções diversas, como os para processamento de dados e os para armazenagem de informação, por exemplo. Apesar disso, a produção deles é muito semelhante.

Disponível em: <<http://revistagalileu.globo.com>>. Acesso em: 28 abr. 2022, com adaptações.

No ano marcado pela falta de *microchips*, problema que afetou a indústria global e, no Brasil, impediu a produção de cerca de 300 mil veículos, as vendas de automóveis, comerciais leves, caminhões e ônibus somaram 2,119 milhões de unidades em 2021, apenas 3% acima do resultado do ano anterior.

Disponível em: <<https://www.otempo.com.br>>. Acesso em: 28 abr. 2022, com adaptações.

Considerando que os excertos apresentados têm caráter meramente motivador, em relação à produção global de *chips* eletrônicos, redija um texto dissertativo analisando a globalização e a divisão internacional do trabalho e os impactos da pandemia da Covid-19 na economia mundial. Aborde, necessariamente, os seguintes tópicos:

- a reestruturação produtiva da economia globalizada;
- a reestruturação produtiva e a desconcentração industrial no Brasil;
- a divisão internacional do trabalho no setor de *chips* e de componentes eletrônicos; e
- os impactos econômicos da pandemia da Covid-19 sobre a produção de *chips* e de componentes eletrônicos.

Extensão do texto: até 40 linhas
[valor: 20,00 pontos]

PROVA DE GEOGRAFIA

Orientações para a elaboração dos textos das provas discursivas.

- A prova de geografia é composta por 4 (quatro) questões discursivas.
- A prova deverá ser manuscrita, em letra legível, com caneta esferográfica de tinta preta, fabricada com material transparente, e as respostas deverão ser transcritas para as folhas de texto definitivo.
- As **folhas de texto definitivo** das provas discursivas não poderão ser assinadas, rubricadas e nem conter, em outro local que não o apropriado, nenhuma palavra ou marca, sob pena de anulação da prova.
- As **folhas de texto definitivo** são os únicos documentos válidos para a avaliação das provas discursivas.
- O candidato receberá 8 (oito) folhas de texto definitivo das provas discursivas, sendo 2 (duas) folhas para cada questão. As folhas de texto definitivo indicarão a qual questão pertencem. O candidato deverá observar atentamente a correspondência entre cada questão e a respectiva folha de texto definitivo, sob pena de ter o seu texto avaliado negativamente.
- O espaço para rascunho, contido no caderno de provas, é de preenchimento facultativo e não valerá para avaliação das provas discursivas.
- As respostas para a questão 1 e para a questão 2 deverão ter extensão máxima de até 60 (sessenta) linhas cada uma. As respostas para a questão 3 e para a questão 4 deverão ter extensão máxima de até 40 (quarenta) linhas cada uma.
- Inicie, impreterivelmente, o seu texto na linha identificada como número 1 na página inicial da folha de texto definitivo.

QUESTÃO 1

Fronteira é um termo rico em conceitos e significados, desde os pontos de vista geográfico, territorial, econômico, social, simbólico ou político, entre outros. É uma delimitação física ao exercício de poder que, muitas vezes, se concretiza em muros ou outras tantas formas materiais, sob controle humano ou de alta tecnologia, voltadas a separar, a escolher quem e o que pode passar por essa área. No caso da fronteira terrestre, as relações transfronteiriças produzem um espaço com natureza particular e complexidades que se tornam objeto prioritário no desenvolvimento de políticas públicas. Ademais, as relações com os países vizinhos abrem possibilidades de acordos e intercâmbios fundamentais ao desenvolvimento da Faixa de Fronteira, assim como do território em sua totalidade. Isso também se dá na fronteira litorânea, na qual há um amplo espaço marítimo que concerne ao espaço da Zona Costeira e compõe com esta uma unidade, cujo equilíbrio é condição imprescindível ao desenvolvimento da Faixa da Fronteira Litorânea e do território em sua totalidade.

IPEA – Instituto de Pesquisa Econômica Aplicada. *Fronteiras do Brasil*: referências para a formulação de políticas públicas. Volume 6 / Coordenador: Bolívar Pêgo. Brasília: Ipea, Ministério da Integração Nacional, 2021, pp. 286 e 295, com adaptações.

Considerando que o fragmento de texto apresentado tem caráter meramente motivador, analise os contextos que envolvem as fronteiras do Brasil (terrestre e litorânea). Aborde, necessariamente, os seguintes tópicos:

- definição da faixa de fronteira terrestre;
- arcos da fronteira brasileira e suas características;
- cidades e a Zona Costeira no Brasil; e
- usos e possibilidades de desenvolvimento da fronteira litorânea.

Extensão do texto: até 60 linhas
[valor: 30,00 pontos]

QUESTÃO 2

As transformações ocorridas na atividade agropecuária brasileira, nas últimas cinco décadas, têm profundos impactos sobre a (re)regionalização do território brasileiro, sobretudo por incrementar a urbanização e propiciar novas organizações. Entre essas, serão destacadas aqui as inerentes ao agronegócio globalizado, áreas escolhidas para receber os mais expressivos investimentos produtivos do setor, representando suas áreas mais competitivas as quais ora denominamos de Regiões Produtivas do Agronegócio (RPAs). Nas RPAs, as empresas agropecuárias e agroindustriais, as *tradings* e corporações concernentes às redes agroindustriais são os principais agentes produtores do espaço agrário, urbano e regional. Dessa forma, tornam-se regiões funcionais ao agronegócio globalizado.

ELIAS, Denise. Reestruturação produtiva da agropecuária e novas regionalizações no Brasil. In: ALVES, Vicente Eudes Lemos. *Modernização e regionalização do Centro-Oeste do Brasil*. 2015.

Considerando que o fragmento de texto apresentado tem caráter meramente motivador, analise as novas dinâmicas do agronegócio e a refuncionalização dos espaços produtivos. Aborde, necessariamente, os seguintes tópicos:

- a complexidade das regiões funcionais ao agronegócio globalizado;
- o impacto do agronegócio sobre a autonomia desses espaços;
- as dinâmicas potenciais de exclusão e inclusão decorrentes das características do agronegócio; e
- apresentação de pelo menos um exemplo de uma região onde as dinâmicas do agronegócio prevalecem e a(s) respectiva(s) *commodities*(s) de referência.

Extensão do texto: até 60 linhas
[valor: 30,00 pontos]

QUESTÃO 3

A reorganização dos espaços produtivos e o surgimento de dinâmicas comerciais específicas incluíram um conjunto de mudanças na estrutura mundial dos portos. Dessa forma, a evolução do transporte marítimo sempre esteve associada à agilidade, traduzida pelo aumento da capacidade dos navios, por ganhos em velocidade e por uma diminuição significativa do custo do frete, contribuindo para o encurtamento relativo das distâncias para os homens, as mercadorias e as informações. A partir dos anos de 1990, com a intensificação do processo de globalização, caracterizado pela crescente integração das esferas da produção, do consumo e da circulação em todas as escalas geográficas, novas demandas foram colocadas sobre os portos.

MONIÉ, Frédéric; VIDAL, Soraia Maria do S. C. Cidades, portos e cidades portuárias na era da integração produtiva. *In: Revista de Administração Pública*, Rio de Janeiro, v. 40, n. 6, 2006, com adaptações.

O navio porta-contêineres Ever Given encalhou no canal de Suez, no Egito, no mês de março de 2021. O canal de Suez é uma das principais rotas de comércio marítimo internacional. O bloqueio interrompeu a passagem entre a Ásia e a Europa de mercadorias avaliadas em US\$ 9,6 bilhões por dia, segundo a consultoria Lloyd's List Intelligence. Mais de 12% do comércio mundial move-se ao longo da rota, de acordo com dados da Autoridade do canal de Suez.

Disponível em: <<https://www.bbc.com/portuguese/internacional-56555845>>. Acesso em: jun. 2021, com adaptações.

A seguir, navio Ever Given, com cerca de 400 metros de comprimento, atravessado diagonalmente no Canal de Suez, bloqueando o tráfego nos dois sentidos.



Disponível em: <<https://www.bbc.com/portuguese/internacional-56555845>>. Acesso em: jun. 2021.

Considerando que os fragmentos de texto apresentados têm caráter meramente motivador, analise o transporte marítimo global de cargas, os portos e suas regiões de influência, e os canais e estreitos estratégicos nas rotas marítimas globais. Aborde, necessariamente, os seguintes tópicos:

- mudanças na estrutura mundial dos portos na globalização;
- portos e suas áreas territoriais de influência;
- containerização e transporte de cargas e economia global; e
- canais e estreitos geoestratégicos da economia global e suas fragilidades (citar uma dessas localizações e suas fragilidades, excetuando-se o canal de Suez).

Extensão do texto: até 40 linhas
[valor: 20,00 pontos]

QUESTÃO 4

As formas pelas quais a segregação social se inscreve nos espaços das cidades variam historicamente. No começo do século, São Paulo era uma cidade extremamente concentrada e os diferentes grupos sociais viviam próximos uns dos outros, embora em arranjos residenciais radicalmente distintos: os ricos em casas espaçosas, os pobres amontoados nos cortiços. Da década de 1940 à de 1980, a divisão entre centro e periferia organizou o espaço da cidade. Durante a vigência desse padrão, grandes distâncias separavam diferentes grupos sociais: as classes média e alta ocupavam os bairros centrais e bem-equipados em termos de infraestrutura urbana, enquanto os pobres habitavam a precária periferia.

CALDEIRA, Teresa Pires do Rio. Enclaves fortificados: a nova segregação urbana. *Novos estudos CEBRAP*, v. 47, p. 155-76, 1997, com adaptações.

Considerando que o fragmento de texto apresentado tem caráter meramente motivador, aborde, necessariamente, os seguintes tópicos:

- o acelerado processo de urbanização brasileira e suas consequências;
- as novas inter-relações entre as cidades na era da globalização;
- os enclaves urbanos e a segregação socioespacial-intraurbana; e
- o direito à cidade e a desigualdade social.

Extensão do texto: até 40 linhas
[valor: 20,00 pontos]

PROVA DE GEOGRAFIA

Orientações para a elaboração dos textos das provas discursivas.

- A prova de geografia é composta por 4 (quatro) questões discursivas.
- A prova deverá ser manuscrita, em letra legível, com caneta esferográfica de tinta preta, fabricada com material transparente, e as respostas deverão ser transcritas para as folhas de texto definitivo.
- As **folhas de texto definitivo** das provas discursivas não poderão ser assinadas, rubricadas e nem conter, em outro local que não o apropriado, nenhuma palavra ou marca que identifique o candidato, sob pena de anulação da prova.
- As **folhas de texto definitivo** são os únicos documentos válidos para a avaliação das provas discursivas.
- O candidato receberá 8 (oito) folhas de texto definitivo das provas discursivas, sendo 2 (duas) folhas para cada questão. As folhas de texto definitivo indicarão a qual questão pertencem. O candidato deverá observar atentamente a correspondência entre cada questão e a respectiva folha de texto definitivo, sob pena de ter o seu texto avaliado negativamente.
- O espaço para rascunho, contido no caderno de provas, é de preenchimento facultativo e não valerá para avaliação das provas discursivas.
- As respostas para a questão 1 e para a questão 2 deverão ter extensão máxima de até 60 (sessenta) linhas cada uma. As respostas para a questão 3 e para a questão 4 deverão ter extensão máxima de até 40 (quarenta) linhas cada uma.
- Inicie, impreterivelmente, o seu texto na linha identificada como número 1 na página inicial da folha de texto definitivo.

QUESTÃO 1

Se pensarmos nas nossas próprias experiências pessoais, pelo menos para aqueles que partilham mais amplamente da globalização em curso, o mundo parece mesmo, muitas vezes, ter substancialmente “encolhido”. Desenha-se assim um mundo “sem fronteiras”, onde foi decretado o “fim das distâncias”, tanto pela velocidade permitida ao nosso deslocamento físico pelos transportes quanto pela instantaneidade proporcionada pelas comunicações, especialmente a internet.

HAESBAERT, Rogério. *O mito da desterritorialização: do “fim dos territórios” à multiterritorialidade*. Bertrand Brasil: Rio de Janeiro, 2007.

Considerando que o fragmento de texto apresentado tem caráter meramente motivador, analise a pertinência do conceito de desterritorialização. Aborde, necessariamente, os seguintes tópicos:

- a) as transformações pós-fordistas nos sistemas produtivos e gerenciais;
- b) espaços-de-lugares e espaços-de-fluxos;
- c) o poder do Estado Nacional; e
- d) as fronteiras nacionais no mundo contemporâneo.

Extensão do texto: até 60 linhas
[valor: 30,00 pontos]

QUESTÃO 2

Mudanças profundas na composição, na geografia e no quadro institucional da economia global têm apresentado implicações para as cidades. No século 19, quando a economia mundial se apoiava principalmente no comércio, os locais fundamentais eram os portos, as fazendas, as fábricas e as minas. Já naquela época, as cidades eram centros de prestação de serviços. De maneira característica, elas se desenvolviam ao lado de portos, e as companhias de comércio dependiam dos múltiplos serviços industriais, bancários e de outros serviços comerciais localizados em cidades. Estas, entretanto, não eram os locais fundamentais de produção para as indústrias dominantes do século 19 (SASSEN, 1998, p. 23).

No século 21, “três tipos de lugares, entre todos os demais, simbolizam as novas formas da globalização econômica: zonas de processamento de exportações, centros bancários *offshore* e cidades globais. Existem também muitos outros espaços, em que as transações internacionais se materializam.” (SASSEN, 1998, p. 34).

SASSEN, Saskia. *As cidades na economia mundial*. São Paulo: Studio Nobel, 1998, com adaptações.

Com base nos dois fragmentos de texto motivador e considerando os elementos mencionados, disserte a respeito da temática apresentada abordando, necessariamente, os seguintes tópicos, com a devida exemplificação:

- a) definir o que são zonas de processamento de exportações e exemplificar duas dessas zonas com as respectivas características produtivas e de localização geográfica;
- b) evidenciar os aspectos relacionados aos centros bancários *offshore* e a respectiva relação com a economia globalizada e exemplificar dois desses centros;
- c) identificar quatro características relacionadas às cidades globais, correlacionando à rede urbana brasileira; e
- d) destacar o papel atual dos portos e a respectiva relação com a economia globalizada.

Extensão do texto: até 60 linhas
[valor: 30,00 pontos]

QUESTÃO 3

No presente trabalho, entendemos por domínio morfoclimático e fitogeográfico um conjunto espacial de certa ordem de grandeza territorial – de centenas de milhares a milhões de quilômetros quadrados de área – onde haja um esquema coerente de feições de relevo, tipos de solos, formas de vegetação e condições climato-hidrológicas.

[...] Até o momento foram reconhecidos seis grandes domínios paisagísticos e macroecológicos em nosso País.

AB'SABER, Aziz. *Os domínios de natureza no Brasil*. São Paulo: Ateliê Editorial, 2003, p. 11-12 e 13, com adaptações.

Os seis domínios identificados por Ab'Saber, na obra apresentada, são: 1) o domínio das terras baixas florestadas da Amazônia (amazônico); 2) o domínio dos chapadões centrais recobertos por cerrados, cerradões e campestres (cerrado); 3) o domínio das depressões interplanálticas semiáridas do Nordeste (caatinga); 4) o domínio dos “mares de morros” florestados (mares de morros); 5) o domínio dos planaltos subtropicais com araucárias (araucárias); e 6) o domínio das coxilhas subtropicais com pradarias mistas (pradarias).

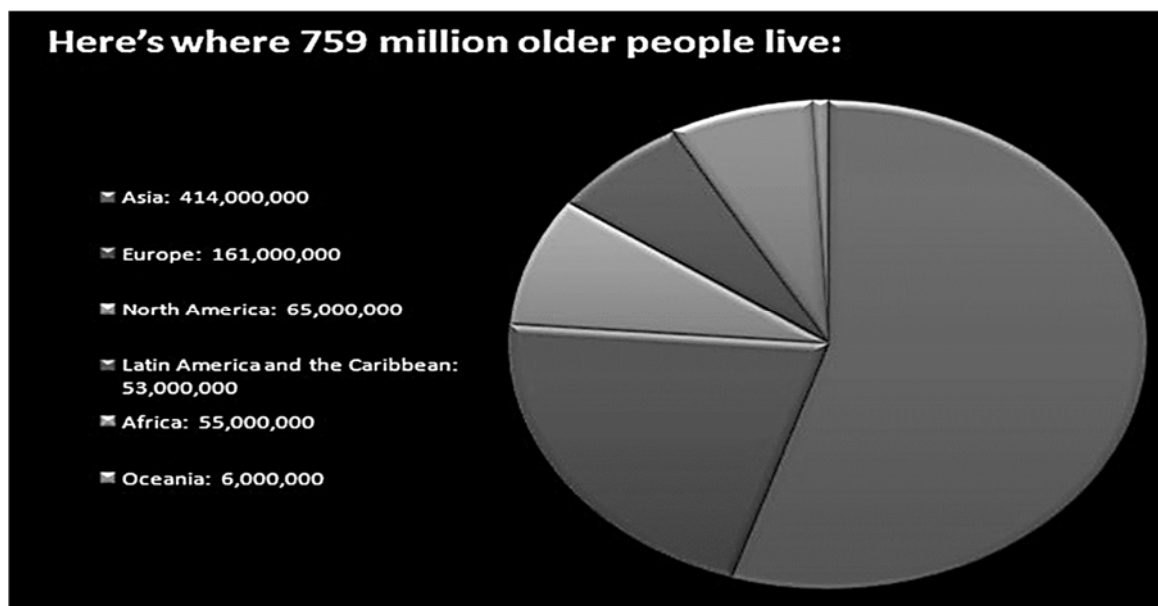
Com relação aos domínios da caatinga e do cerrado mencionados, redija um texto que contenha a caracterização, para cada um, dos seguintes tópicos:

- a) clima;
- b) vegetação;
- c) regime hídrico; e
- d) principais atividades econômicas desenvolvidas.

Extensão do texto: até 40 linhas
[valor: 20,00 pontos]

QUESTÃO 4

O número de pessoas com 60 anos de idade ou mais tem aumentado a uma taxa sem precedentes. Em 1980, havia 378 milhões de pessoas no mundo com 60 anos ou mais. Agora, 30 anos depois, esse número dobrou para 759 milhões, e projeta-se um aumento de 2 bilhões em 2050. A Organização Mundial da Saúde (OMS) prevê que até 2020, pela primeira vez na história, o número de pessoas com mais de 60 anos vai superar o de crianças menores de 5 anos de idade.



Disponível em: <<https://www.unfpa.org/fr/node/7682>>.

A população europeia está envelhecendo rapidamente, e isso é particularmente evidente nas cidades. Segundo o Eurostat, o número de pessoas com 65 anos de idade ou mais quase dobrará de 17% para 30% até 2060, e as pessoas com 80 anos ou mais passarão de 5% para 12%. Essa mudança demográfica significativa é vista como um grande desafio para os sistemas sociais e de saúde da Europa. Muitas cidades começaram a desenvolver e implementar programas amigáveis aos idosos. No entanto, o principal desafio para as cidades é menos o fato de estarmos vivendo mais, mas mais o fato de passarmos muitos anos da velhice em um ambiente urbano projetado por e para uma população mais jovem e economicamente ativa.

ACPA. *Adaptação das cidades europeias ao envelhecimento da população: desafios políticos e melhores práticas.*
Disponível em: <<https://www.espon.eu/ACPA>>.

Com base nos fragmentos de texto motivador e considerando os elementos gráficos e os indicadores mencionados, disserte a respeito da temática apresentada, abordando os seguintes tópicos, com a devida exemplificação:

- causas do envelhecimento da população mundial / de grupos de países ou continentes onde o envelhecimento da população já é problema atual;
- perspectivas para o envelhecimento da população brasileira;
- envelhecimento saudável; e
- enumeração e explicação de dois desafios para as políticas públicas à população idosa.

Extensão do texto: até 40 linhas
[valor: 20,00 pontos]

PROVA ESCRITA DE GEOGRAFIA

Nesta prova, faça o que se pede, utilizando, caso deseje, os espaços indicados para rascunho. Em seguida, escreva os textos definitivos das questões da Prova Escrita de Geografia no **Caderno de Textos Definitivos da Prova Escrita de Geografia**, nos locais apropriados, pois não serão avaliados fragmentos de texto escritos em locais indevidos. Respeite o limite máximo de linhas disponibilizado para cada questão. Qualquer fragmento de texto além desse limite será desconsiderado. No **Caderno de Textos Definitivos da Prova Escrita de Geografia**, utilize apenas caneta esferográfica de tinta preta, fabricada em material transparente.

QUESTÃO 1

Riscos físicos e catástrofes tendem a se repetir nos mesmos territórios. Porém, é necessário mudar a escala: o território do risco não se restringe à área da ocorrência, uma vez que podem ser sentidas as consequências de uma inundação sem necessariamente ter os pés na água.

Y. Veyret, M. Reghezza. **Vulnérabilité et risques. L'approche récente de la vulnérabilité.** Responsabilité & Environnement, 2006, n.º 43, p. 14 (com adaptações).

Considerando que o fragmento de texto apresentado tem caráter motivador, elabore um texto dissertativo acerca do impacto, na perspectiva social, da produção dos riscos e da vulnerabilidade. Ao elaborar seu texto, faça o que se pede a seguir.

- 1 Explique os conceitos de risco, catástrofe e vulnerabilidade como elementos de produção social que correlaciona natureza e políticas.
- 2 Explique como as práticas de desenvolvimento e as infraestruturas espaciais estabelecidas podem gerar riscos e vulnerabilidades.
- 3 Aborde a situação do agronegócio como um caso ou fenômeno latino-americano relativo a desenvolvimento e infraestruturas geradoras de riscos e vulnerabilidades.

Extensão máxima: 60 linhas

[valor: 30,00 pontos]

QUESTÃO 2

O espaço sempre foi associado ao tempo. E hoje, na acentuação de diferentes espaços-tempos reside uma das raízes da geopolítica contemporânea. As redes são desenvolvidas nos países ricos, nos centros do poder, onde o avanço tecnológico é maior e a circulação planetária permite que se selecionem territórios para investimentos, seleção que depende também das potencialidades dos próprios territórios. Ocorre que, ao se expandirem e sustentarem as riquezas circulante, financeira e informacional, as redes se socializam. E essa socialização está gerando movimentos sociais importantes, os quais também tendem a se transnacionalizarem.

Há, hoje, portanto, dois movimentos internacionais: um em nível do sistema financeiro, da informação, do domínio do poder efetivamente das potências; e outro, uma tendência ao internacionalismo dos movimentos sociais. Todos os agentes sociais organizados, corporações, organizações religiosas, movimentos sociais etc., têm suas próprias territorialidades, acima e abaixo da escala do Estado, suas próprias geopolíticas, e tendem a se articular, configurando-se uma situação mundial bastante complexa.

A Amazônia é um exemplo vivo dessa nova geopolítica, pois nela se encontram todos esses elementos. Constitui um desafio para o presente, não mais um desafio para o futuro. Qual é este desafio atual? A Amazônia, o Brasil, e os demais países latino-americanos são as mais antigas periferias do sistema mundial capitalista. Seu povoamento e desenvolvimento foram fundados de acordo com o paradigma de relação sociedade-natureza.

Bertha K. Becker. **Dossiê Amazônia Brasileira I**. Geopolítica da Amazônia. Estudos Avançados, vol. 19, n.º 53. São Paulo: jan.-abr./2005 (com adaptações).

Considerando que o fragmento de texto apresentado tem caráter unicamente motivador, faça o que se pede a seguir.

- 1 Apresente os conceitos de Amazônia brasileira, Amazônia transnacional, região Norte e Amazônia Legal e aponte diferenças entre esses conceitos.
- 2 Discorra sobre o paradigma da relação sociedade-natureza que norteou o povoamento e a ocupação da Amazônia.
- 3 Explique em que consiste um processo territorial de âmbito nacional e um de âmbito transnacional, exemplificando cada um e apresentando seus agentes.

Extensão máxima: 60 linhas

[valor: 30,00 pontos]

QUESTÃO 3

Os geógrafos dos anos sessenta do século passado atribuíram tudo ao espaço. Hoje em dia, eles falam mais comumente de território. Essa mudança reflete, em parte, os debates epistemológicos internos à geografia, que é, sobretudo, testemunha de uma profunda transformação do mundo e de uma mutação correlata das maneiras de compreendê-lo. Concorrem para isso o declínio das ideologias de dominância econômica, tão populares durante os “Trinta Gloriosos”, a atenção mais perspicaz dada à maneira pela qual os homens vivem o seu meio e a fragilização das identidades, desencadeada pelo declínio das filosofias da história que serviam para interpretar o mundo. A partir de agora, é aos lugares e aos territórios e àquilo que os diferencia que muitos se referem para dizer o que eles são e em que se distinguem uns dos outros.

Paul Claval. **O território na transição da pós-modernidade.**
GEOgraphia, 1999, n.º 2, ano 1, p. 29-54 (com adaptações).

Considerando que o fragmento de texto apresentado tem caráter unicamente motivador, disserte sobre as abordagens espaciais e(ou) territoriais, no campo do saber geográfico, durante os seguintes períodos:

- 1 fase inicial do determinismo ou ambientalismo geográfico;
- 2 fase inicial da geografia crítica radical;
- 3 fase emergente da geografia humanista.

Extensão máxima: 40 linhas

[valor: 20,00 pontos]

QUESTÃO 4

Os brasileiros formam atualmente a maior comunidade estrangeira em Portugal. São 85 mil pessoas — o que equivale a 20,3% dos 421.711 imigrantes que vivem no país. Os números, correspondentes ao ano de 2017, foram apresentados no Relatório de Imigração, Fronteiras e Asilo, elaborado pelo Serviço de Estrangeiros e Fronteiras de Portugal.

Os dados sobre a imigração brasileira apontam um crescimento de 5,1% em 2017, em sentido inverso ao das quedas sucessivas registradas desde 2011. O total de brasileiros que vivem no país aumentou de 81.251 para 85.426. Os brasileiros também são o maior número entre os que pediram a cidadania portuguesa, com 10.805 pedidos em meio a um total de mais de 37 mil.

Segundo o levantamento, 81% dos estrangeiros em Portugal fazem parte da população ativa — os que fazem ou estão aptos a fazer parte da força de trabalho. Mais de dois terços dos imigrantes (68,6%) se concentram apenas em três cidades: Lisboa, Faro e Setúbal.

Brasileiros em Portugal chegam a 85 mil e são maior comunidade imigrante no país. Internet: <<https://noticias.uol.com.br>> jun./2018 (com adaptações).

Tendo o fragmento de texto anteriormente apresentado como referência inicial, redija um texto dissertativo que atenda ao que se pede a seguir.

- 1 Discorra sobre a política de atração de imigrantes para Portugal.
- 2 Destaque quatro motivações da imigração de brasileiros para Portugal.
- 3 Discorra sobre a preferência dos imigrantes brasileiros pelas áreas urbanas metropolitanas de Portugal.

Extensão máxima: 40 linhas

[valor: 20,00 pontos]

PROVA ESCRITA DE GEOGRAFIA

Nesta prova, faça o que se pede, utilizando, caso deseje, os espaços indicados para rascunho. Em seguida, escreva os textos definitivos das questões no **Caderno de Textos Definitivos da Prova Escrita de Geografia**, nos locais apropriados, pois não serão avaliados fragmentos de texto escritos em locais indevidos. Respeite o limite máximo de linhas disponibilizado para cada questão. Qualquer fragmento de texto além desse limite será desconsiderado. No **Caderno de Textos Definitivos da Prova Escrita de Geografia**, utilize apenas caneta esferográfica de tinta preta, fabricada em material transparente.

QUESTÃO 1

Após quatro décadas de política do filho único, a China agora quer mais crianças

O casamento sempre foi uma instituição de extrema importância e um sinal de *status* e estabilidade para os chineses, que, por tradição, têm no núcleo familiar a sua referência maior. A pressão em torno do casamento, porém, já não é só dos pais do casal. Desde que flexibilizou, no início de 2016, a política do filho único, em vigor há quase quatro décadas, o Partido Comunista quer que a população volte a crescer aceleradamente.

Internet: <www.bbc.com> set./2017 (com adaptações).

Considerando que o fragmento de texto acima tem caráter unicamente motivador, disserte acerca do declínio da política do filho único na China. Ao elaborar seu texto, aborde os seguintes aspectos:

- 1 consequências da política do filho único durante o período de vigência da lei que a instituiu;
- 2 transformações na estrutura socioeconômica chinesa que explicam a diminuição do crescimento da população;
- 3 atual dinâmica demográfica na China e seus impactos no território e na economia nacional.

Extensão máxima: 60 linhas

[valor: 30,00 pontos]

QUESTÃO 2

Nas últimas décadas, o setor agrícola brasileiro cresceu rapidamente com base na produtividade, bem como na expansão e consolidação da fronteira agrícola nas regiões Centro-Oeste e Norte do país. Além de atender ao mercado interno, a produção agrícola destina-se à exportação, com a participação de novos parceiros comerciais. A agricultura no Brasil contribui, ainda, de forma importante para o fornecimento de energia no país. A utilização de energia renovável da agricultura está composta principalmente por biomassa, pela energia hidráulica e pela lenha. Toda essa trajetória de expansão está associada a pressões ambientais sobre o território brasileiro e seus recursos em escala de modo nenhum desprezível, o que suscita a preocupação com o consequente comprometimento da capacidade produtiva dos agroecossistemas, resultante de diversos sistemas de lavoura praticados nas diferentes regiões do país. Assim, os impactos ambientais associados ao setor agrícola tornam a ampliação do debate sobre meio ambiente e desenvolvimento necessária, o que envolve não só as relações entre gestão ambiental e agricultura, mas, igualmente, a agenda diplomática de diversos países e a pauta das negociações intergovernamentais.

Considerando a necessidade de exame da política ambiental no contexto produtivo do país, disserte sobre a problemática acima apresentada, incluindo exemplos específicos e abordando as características de ecossistemas brasileiros e a necessidade de um efetivo gerenciamento ambiental. Em seu texto, atenda, ainda, ao que se pede abaixo.

- 1 Evidencie os impactos ambientais relativos às atividades agrícolas praticadas nas diversas regiões brasileiras, levando em conta biomas, ecossistemas e domínios encontrados nessas regiões, já que assumem caráter diferenciado conforme condicionantes locais.
- 2 Comente a necessidade de gerenciamento ambiental efetivo frente aos custos ambientais associados à implantação de modelos agrícolas intensivos na utilização de recursos naturais, ressaltando o papel fundamental das políticas ambientais no Brasil.
- 3 Discuta a incorporação da variável ambiental na evolução das trajetórias tecnológicas na agricultura a partir do paradigma da sustentabilidade e a exigência de marcos fundamentais para a gestão ambiental no país.
- 4 Comente sobre os custos ambientais da inserção do Brasil no mercado global, bem como as possíveis restrições ambientais de caráter comercial, e o atendimento ao crescimento da demanda interna relativamente aos produtos agrícolas, considerando a segurança alimentar e energética.

Extensão máxima: 60 linhas

[valor: 30,00 pontos]

QUESTÃO 3

Na América Latina, particularmente, tem-se observado um processo de transformação territorial decorrente das novas dinâmicas econômica, demográfica e urbana, resultantes das novas lógicas advindas da reestruturação produtiva tanto na indústria quanto na agricultura. Considerando esse contexto, disserte sobre os principais processos, dinâmicas e variáveis responsáveis pelas mudanças que vêm ampliando a articulação, interna e externa, dos países latinos. Em seu texto, aborde:

- 1 a redefinição das dinâmicas territoriais decorrentes dos processos do crescimento demográfico;
- 2 a redefinição das novas dinâmicas territoriais: industrial e agrícola, regional e urbana.

Extensão máxima: 40 linhas

[valor: 20,00 pontos]

QUESTÃO 4

Uma alternativa para tratar a questão regional é buscar defini-la no quadro da integração territorial, que manifesta a síntese concreta dos processos de divisão técnica e social do trabalho, de concentração produtiva e de centralização financeira do território. O conceito de território pressupõe a existência de relações de poder, seja definidas por relações jurídicas, seja definidas por relações políticas ou econômicas.

Questão regional e gestão do território no Brasil. In: I. Castro, P. Gomes e R. Corrêa. **Geografia:** conceitos e temas. Rio de Janeiro: Bertrand Brasil, 2010, p. 207-38 (com adaptações).

Aplicando as concepções do excerto acima à economia espacial brasileira do período 1960-2017, explique como a transferência da capital federal para Brasília — inaugurada em 1960 — redefiniu, em âmbito nacional, as dinâmicas regionais e influenciou a integração do território e a centralização espacial-financeira.

Extensão máxima: 40 linhas

[valor: 20,00 pontos]

QUESTÃO 3 (GEOGRAFIA)

Estudos recentes sobre o processo de urbanização evidenciam um período de transição econômica, social, política, demográfica e territorial decorrente de novas lógicas de produção relacionadas à globalização. Esse processo de globalização impactou a geografia e as realidades urbanas, ao gerar novas configurações que transcendem as fronteiras nacionais. Esses aspectos evidenciam a relevância das cidades na atualidade. Tendo como referência este processo, atenda ao que se pede a seguir.

- 1 Mencione e discuta as principais transformações da urbanização em escala global.
- 2 Discorra a respeito do impacto da urbanização sobre o sistema urbano brasileiro.
- 3 Discorra sobre o impacto dessas transformações sobre a configuração e organização dos espaços intraurbanos.

Extensão máxima: 90 linhas
[valor: 30,00 pontos]

QUESTÃO 4 (GEOGRAFIA)

Faixas de campos limpos ou campestres sublinham as áreas de cristas quartzíticas e xistos aplainados e mal pedogenetizados dos bordos de chapadões onde nascem bacias de captação de pequenas torrentes dotadas de forte capacidade de dissecação (centro-sul de Goiás). Por sua vez, as florestas-galeria permanecem amarradas rigidamente ao fundo aluvial dos vales de porte médio a grande. Os sulcos das cabeceiras dendritificadas das sub-bacias hidrográficas possuem apenas uma vegetação ciliar, disposta linearmente, em sistema de frágil implantação. As florestas-galeria verdadeiras às vezes ocupam apenas os diques marginais do centro das planícies de inundação, em forma de corredor contínuo de matas; outras vezes, quando o fundo aluvial é mais homogêneo e alongado, ocupam toda a calha aluvial, sob a forma de serpenteantes corredores florestais.

N. AB'Saber. **Domínios de natureza no Brasil: potencialidades paisagísticas**. Ateliê Editorial: São Paulo, 2003.

O capital natural é considerado escasso e frequentemente é apontado como causa de conflitos locais e internacionais. Isso e os visíveis processos de degradação ambiental motivam o encaminhamento de debates e o estabelecimento de políticas em escala nacional e mundial. No que se refere ao Brasil, a riqueza biológica — entendida não só como variabilidade de organismos — atinge seus diversos biomas, a exemplo do Cerrado, mencionado no texto acima. Considerando essas informações, discorra sobre o valor estratégico dos recursos ambientais e as inter-relações entre a geodiversidade do Brasil e os desafios e novos imperativos ao desenvolvimento tecnológico, econômico e social do país. Em seu texto, aborde os temas segurança alimentar, suprimento de água, e acesso e apropriação dos recursos genéticos.

Extensão máxima: 60 linhas
[valor: 20,00 pontos]

PROVA ESCRITA DE GEOGRAFIA E POLÍTICA INTERNACIONAL

Nesta prova, faça o que se pede, utilizando, caso deseje, os espaços indicados para rascunho. Em seguida, escreva os textos definitivos das questões no **Caderno de Textos Definitivos da Prova Escrita de Geografia e Política Internacional**, nos locais apropriados, pois não serão avaliados fragmentos de texto escritos em locais indevidos. Respeite o limite máximo de linhas disponibilizado para cada questão. Qualquer fragmento de texto além desse limite será desconsiderado. No **Caderno de Textos Definitivos da Prova Escrita de Geografia e Política Internacional**, utilize apenas caneta esferográfica de tinta preta, fabricada em material transparente.

QUESTÃO 1 (GEOGRAFIA)

De acordo com o estudo **Brasil em Desenvolvimento, Estado, Planejamento e Políticas Públicas**, de 2011, do IPEA, a fronteira internacional do Brasil percorre onze unidades da Federação, delimitando o território nacional com o de dez países da América do Sul. Na faixa de 150 km de largura ao longo de 15.719 km (27% do território nacional), existem 588 municípios, com aproximadamente 10 milhões de habitantes. Esses municípios têm atraído significativos contingentes de migrantes a partir de dinâmicas econômicas nacionais e internacionais. As aglomerações transfronteiriças incluem duas ou mais cidades que apresentam relações expressivas entre si, podendo se localizar na fronteira de dois ou mais países, incluindo o Brasil. Essas aglomerações materializam um conjunto de novas possibilidades de inserção na divisão do trabalho, não se restringindo apenas à população local, mas expandindo sua influência para cidades e regiões além da fronteira, reforçando, assim, sua condição de centralidade na rede urbana da América do Sul.

Considerando que o texto acima tem caráter unicamente motivador, discorra sobre o papel das aglomerações transfronteiriças nas dinâmicas de desenvolvimento regional, com foco nos seguintes tópicos:

- ▶ cidades de fronteira e seu papel estratégico nas políticas de integração sul-americana;
- ▶ funções, oportunidades e possibilidades no desenvolvimento das cidades/aglomerações transfronteiriças;
- ▶ papel das infraestruturas de transporte na condição de centralidade das cidades de fronteira.

Extensão máxima: 90 linhas

[valor: 30,00 pontos]

QUESTÃO 2 (GEOGRAFIA)

A Convenção do Patrimônio Mundial, aprovada em 1972, inscreve-se entre as mais bem-sucedidas estratégias da UNESCO para a preservação da diversidade dos povos, de suas culturas e territórios, nas quais, em última instância, estão assentados os fundamentos do respeito, da tolerância e de um desenvolvimento social e culturalmente equilibrado. Em 1977, o Brasil aderiu à Convenção, e, entre 1980 e 2015, dezenove sítios culturais e naturais brasileiros foram inscritos na Lista do Patrimônio Mundial, o que resultou, nos dias atuais, em um painel bastante representativo da riqueza cultural e natural do país.

J. Werthein. Prefácio. In: F. F. Silva. **As cidades brasileiras e o patrimônio cultural da humanidade**. São Paulo: EdUSP, 2003, p. 7 (com adaptações).

A partir da reflexão sobre a informação contida no excerto acima, explique a relação contraditória entre, por um lado, a consagração do patrimônio da humanidade no Brasil e a gestão ambiental e cultural brasileiras, e, por outro lado, as especificidades do desenvolvimento territorial histórico do país.

Extensão máxima: 60 linhas

[valor: 20,00 pontos]

PROVA ESCRITA DE GEOGRAFIA E POLÍTICA INTERNACIONAL

Nesta prova, faça o que se pede, utilizando, caso deseje, os espaços indicados para rascunho. Em seguida, transcreva os textos definitivos para o **Caderno de Textos Definitivos da Prova Escrita de Geografia e Política Internacional**, nos locais apropriados, pois não serão avaliados fragmentos de texto escritos em locais indevidos. Respeite o limite máximo de linhas disponibilizado para cada questão. Qualquer fragmento de texto além desse limite ou quaisquer palavras que ultrapassem os limites máximos estabelecidos serão desconsiderados. No **Caderno de Textos Definitivos da Prova Escrita de Geografia e Política Internacional**, utilize apenas caneta esferográfica de tinta preta, fabricada em material transparente.

QUESTÃO 1 (GEOGRAFIA)

Países do Sul têm-se destacado no mercado global e incrementado as trocas comerciais entre si (figuras 1, *a* e *b*). No caso brasileiro, segundo o Ministério do Desenvolvimento, Indústria e Comércio Exterior, observa-se uma intensificação nas relações comerciais com a China, cuja demanda crescente por *commodities* a faz um dos principais parceiros comerciais do Brasil (figura 2). Não se pode deixar de registrar que o redesenho da geografia do comércio mundial remete à problemática ambiental, deixando explícitas as contradições entre a preservação/conservação da natureza e o desenvolvimento econômico.

**INTERCÂMBIO COMERCIAL BRASILEIRO (US\$ BILHÕES)
COM PAÍSES DESENVOLVIDOS / PAÍSES EMERGENTES
E EM DESENVOLVIMENTO
1998 / 2002 / 2005 - 2012**

Exportações

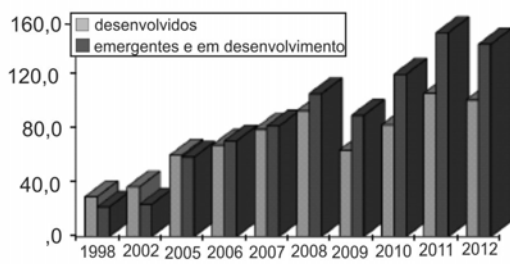


Figura 1a

Importações

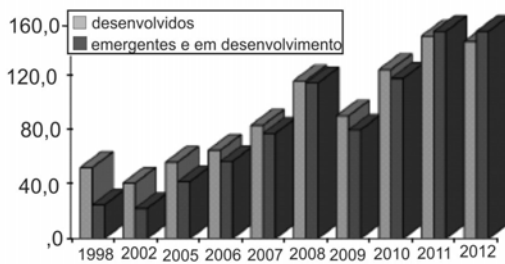
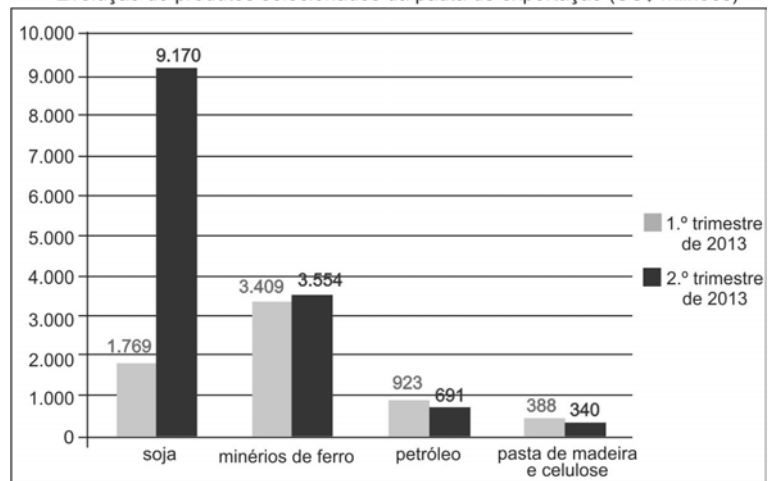


Figura 1b

MRE/DPR/DIC

Evolução do comércio com a China

Evolução de produtos selecionados da pauta de exportação (US\$ milhões)



Ministério do Desenvolvimento, Indústria e Comércio Exterior (MDIC) Elaboração: CEBEC

Figura 2

Considerando, de um lado, a composição e a escala das trocas entre o Brasil e seus parceiros comerciais e, de outro, os instrumentos da política ambiental brasileira, bem como os compromissos assumidos no que se refere à negociação e à implementação de acordos, tratados e convenções internacionais sobre o meio ambiente, discorra sobre as implicações ambientais para o país em face de sua diversidade biológica. Tenha em conta o desenvolvimento dos setores agrícolas, industrial e energético do Brasil.

Extensão máxima: 90 linhas
[valor: 30 pontos]

QUESTÃO 2 (GEOGRAFIA)

O caso da Ucrânia e de sua região da Crimeia é fato que reafirma a teoria de Sir Halford Mackinder (1904) como modelo para a análise das relações internacionais dos blocos de poder e entre os países. Em face dessa informação, analise, com base nos conceitos clássicos da geografia política, a atual geopolítica mundial, considerando as negociações diplomáticas entre os Estados Unidos da América (apoiados pela União Europeia), de um lado, e a Rússia, de outro.

Extensão máxima: 60 linhas

[valor: 20 pontos]

PROVA ESCRITA DE GEOGRAFIA

Nesta prova, faça o que se pede, utilizando, caso deseje, o espaço indicado para rascunho. Em seguida, escreva os textos definitivos das questões para o **Caderno de Textos Definitivos da Prova Escrita de Geografia**, nos locais apropriados, pois não serão avaliados fragmentos de texto escritos em locais indevidos. Respeite o limite máximo de linhas disponibilizado para cada questão. Qualquer fragmento de texto além desse limite ou quaisquer palavras que ultrapassem os limites máximos estabelecidos serão desconsiderados. No **Caderno de Textos Definitivos da Prova Escrita de Geografia**, utilize apenas caneta esferográfica de tinta preta, fabricada em material transparente.

QUESTÃO 1

O acordo de Sykes-Picot, assinado em 1916 entre França e Grã-Bretanha, definiu a partilha de territórios pertencentes ao antigo Império Otomano no Oriente Médio. Aponte qual o princípio geopolítico que norteou a divisão dos territórios e explique como foram divididas as fronteiras entre os dois países.

Extensão máxima: 90 linhas**[valor: 30 pontos]****QUESTÃO 2**

Estados Unidos da América, China e Rússia possuem visões bastante distintas a respeito de seu próprio futuro energético. Discrimine quais são estas visões, identificando até que ponto cada uma delas se ajusta ou não ao paradigma do “desenvolvimento sustentável”.

Extensão máxima: 90 linhas**[valor: 30 pontos]****QUESTÃO 3**

O avanço da cafeicultura em território paulista foi marcado por um novo padrão geográfico de ocupação do solo, que contrariava alguns elementos básicos do modelo de organização territorial estabelecido desde os tempos coloniais. Aponte a inovação básica introduzida, fazendo uma explanação comparativa entre os modelos.

Extensão máxima: 60 linhas**[valor: 20 pontos]****QUESTÃO 4**

Depois de décadas em declínio, a população rural de alguns países começa a se estabilizar e até a apresentar leve crescimento. Explique os motivos atribuídos pelos demógrafos a tal comportamento dessa variável populacional e discorra sobre suas potencialidades nos próximos anos.

Extensão máxima: 60 linhas**[valor: 20 pontos]**

PROVA ESCRITA DE GEOGRAFIA

- Na prova a seguir, faça o que se pede, usando, caso julgue necessário, as páginas para rascunho constantes deste caderno. Em seguida, transcreva os textos para as respectivas folhas do **CADERNO DE TEXTOS DEFINITIVOS DA PROVA ESCRITA DE GEOGRAFIA**, nos locais apropriados, pois **não serão avaliados fragmentos de texto escritos em locais indevidos**. Em cada questão, respeite o limite máximo de linhas estabelecido.
- No **caderno de textos definitivos**, identifique-se apenas na capa, pois **não serão avaliados** os textos que tenham qualquer assinatura ou marca identificadora fora do local apropriado.

QUESTÃO 1

O setor de geração de energia é considerado estratégico em muitos projetos nacionais. Por outro lado, os sistemas de engenharia por ele incrustados no território provocam por vezes significativos impactos nas áreas onde se localizam. Descreva as principais matrizes energéticas atuais, apontando as formas espaciais a elas associadas e o tipo de impacto que causam ou podem causar no meio ambiente.

Extensão máxima: 90 linhas
(Valor: 30 pontos)

QUESTÃO 2

Estudos encomendados pela UNESCO indicam que, no ano de 2025, diversos países deverão sofrer severa escassez de água doce. Enquanto isso, no Brasil, descobriu-se recentemente a existência de um aquífero ainda mais extenso que o conhecido Guarani. Reflita sobre a “questão da água” como problema geopolítico deste início de século XXI e procure situar o Brasil diante de processos que poderiam tornar a água doce uma *commodity* global.

Extensão máxima: 90 linhas
(Valor: 30 pontos)

QUESTÃO 3

O Acordo de Schengen é uma convenção intergovernamental que suprime o controle de pessoas nas fronteiras interiores do espaço comum europeu e o organiza em suas fronteiras exteriores. Com relação a estas últimas, explique como a questão da imigração tem sido tratada pelos principais países signatários, considerando a atual crise econômica no continente.

Extensão máxima: 60 linhas
(Valor: 20 pontos)

QUESTÃO 4

O Sahel compreende uma grande faixa de terras situada entre o deserto do Sahara e as florestas e savanas africanas. Identifique país da região que sofreu recente processo de secessão do seu território e as principais questões geopolíticas envolvidas, levando em conta sua posição de interface entre as duas porções do continente.

Extensão máxima: 60 linhas
(Valor: 20 pontos)

PROVA ESCRITA DE GEOGRAFIA

Na prova a seguir, faça o que se pede, usando, caso julgue necessário, as páginas para rascunho constantes deste caderno. Em seguida, transcreva os textos para as respectivas folhas do **CADERNO DE TEXTOS DEFINITIVOS DA PROVA ESCRITA DE GEOGRAFIA**, nos locais apropriados, pois **não serão avaliados fragmentos de texto escritos em locais indevidos**. Em cada questão, respeite o limite máximo de linhas estabelecido.

No **caderno de textos definitivos**, identifique-se apenas na capa, pois **não serão avaliados** os textos que tenham qualquer assinatura ou marca identificadora fora do local apropriado.

QUESTÃO 1

O conceito de frente pioneira foi utilizado por vários geógrafos na descrição do processo de formação do território brasileiro. Discuta o significado desse conceito, exemplifique o seu uso em alguma obra clássica sobre o tema e avalie a possibilidade de ele ser empregado, na atualidade, em análises geográficas do Brasil.

Extensão máxima: 90 linhas
(valor: 30 pontos)

QUESTÃO 2

Caracterize a situação atual do Distrito Federal (DF) no território brasileiro, refira-se às motivações para a construção de Brasília, obra mais emblemática da política nacional-desenvolvimentista no Brasil, e para a criação do DF e avalie se os objetivos apresentados à época foram atingidos até o momento atual.

Extensão máxima: 90 linhas
(valor: 30 pontos)

QUESTÃO 3

De acordo com os dados do Censo do IBGE de 2010, a população brasileira está passando por significativas alterações no que concerne à estrutura etária, consequência do intenso processo de transição demográfica verificado no país. Identifique o início desse processo e analise suas implicações para o desenvolvimento econômico-social do Brasil.

Extensão máxima: 60 linhas
(valor: 20 pontos)

QUESTÃO 4

A navegação de cabotagem, que já foi o principal meio de transporte de cargas no Brasil, apresentou, por determinado período de tempo, drástica redução em relação ao conjunto geral dos modais. Entretanto, no período entre 2000 e 2010, observou-se aumento da sua participação no transporte total de produtos no país. Disserte sobre os aspectos favoráveis da cabotagem no Brasil e as principais dificuldades existentes, no país, para o seu desenvolvimento.

Extensão máxima: 60 linhas
(valor: 20 pontos)

PROVA ESCRITA DE GEOGRAFIA

Na prova a seguir, faça o que se pede, usando, caso julgue necessário, as páginas para rascunho constantes deste caderno. Em seguida, transcreva os textos para as respectivas folhas do **CADERNO DE TEXTOS DEFINITIVOS DA PROVA ESCRITA DE GEOGRAFIA**, nos locais apropriados, pois **não serão avaliados fragmentos de texto escritos em locais indevidos**. Em cada questão, respeite o limite máximo de linhas estabelecido.

No **caderno de textos definitivos**, identifique-se apenas na capa, pois **não serão avaliados** os textos que tenham qualquer assinatura ou marca identificadora fora do local apropriado.

QUESTÃO 1

Fenômeno relevante do início do século XXI, as migrações internacionais globalizaram-se a partir da segunda metade do século XX. Acerca desse assunto, redija um texto dissertativo atendendo, necessariamente, ao que se pede a seguir.

- ▶ Apresente as principais causas do movimento migratório global e os principais fluxos da migração internacional.
- ▶ Relacione o fenômeno da migração internacional do início do presente século com a questão dos direitos humanos.

Extensão máxima: 90 linhas
(valor: 30 pontos)

QUESTÃO 2

Se, em grande medida, a industrialização tardia do Brasil pode ser atribuída à ausência de combustíveis fósseis abundantes em nosso território terrestre, as perspectivas para o futuro parecem, ao contrário, bastante promissoras. A esse respeito, discorra, sucintamente, sobre as opções de energias renováveis e não renováveis do Brasil, conjecturando sobre a fonte que deverá constituir, em breve, o eixo de nossa matriz energética.

Extensão máxima: 90 linhas
(valor: 30 pontos)

QUESTÃO 3

No livro **Brasil: território e sociedade no limiar do século XXI**, Milton Santos e Maria Laura Silveira propõem uma nova regionalização para o território brasileiro contemporâneo. Apresente as unidades regionais identificadas pelos autores, comente as características que distinguem cada uma dessas regiões e explique as relações existentes entre elas.

Extensão máxima: 60 linhas
(valor: 20 pontos)

QUESTÃO 4

Apesar de o Brasil possuir um território de dimensões continentais, as manchas de elevada fertilidade natural de seu solo são escassas. Descreva quais são as principais culturas agrícolas que, historicamente, exploraram estas “vantagens comparativas”, e de que forma isto tem influenciado a evolução de nossa formação econômico-social.

Extensão máxima: 60 linhas
(valor: 20 pontos)

PROVA ESCRITA DE GEOGRAFIA

Na prova a seguir, faça o que se pede, usando, caso julgue necessário, as páginas para rascunho constantes deste caderno. Em seguida, transcreva os textos para as respectivas folhas do **CADERNO DE TEXTOS DEFINITIVOS DA PROVA ESCRITA DE GEOGRAFIA**, nos locais apropriados, pois **não serão avaliados fragmentos de texto escritos em locais indevidos**. Em cada questão, respeite o limite máximo de linhas estabelecido.

No **caderno de textos definitivos**, identifique-se apenas na capa, pois **não serão avaliados** os textos que tenham qualquer assinatura ou marca identificadora fora do local apropriado.

QUESTÃO 1

O Brasil é um dos maiores produtores de alimentos do mundo e apresenta taxas anuais de crescimento da produção bem superiores à média mundial. Apesar disso, a área destinada à agricultura ainda é pequena, se comparada à de outros grandes produtores mundiais, como a China e os Estados Unidos da América (EUA). Indique o percentual aproximado do território brasileiro destinado à produção agrícola e identifique os principais entraves existentes hoje para a expansão das terras agricultáveis.

Extensão máxima: 90 linhas
(valor: 30 pontos)

QUESTÃO 2

No contexto da atual geografia econômica, a África apresenta-se como a nova fronteira de recursos minerais do planeta, em razão das imensas jazidas existentes em algumas regiões daquele continente. Discorra a respeito das perspectivas da exploração de tais recursos, indicando os principais atores envolvidos no processo e explicando as implicações econômicas e políticas dele decorrentes.

Extensão máxima: 90 linhas
(valor: 30 pontos)

QUESTÃO 3

Em 2007, o IBGE elaborou estudo acerca das regiões de influência das cidades, em que se configurou uma hierarquia formada por uma grande metrópole nacional e centros metropolitanos secundários. Descreva o processo econômico-social que tem condicionado a evolução da rede urbana brasileira.

Extensão máxima: 60 linhas
(valor: 20 pontos)

QUESTÃO 4

A proposta de criação do Estado da Palestina — retomada recentemente pelo presidente dos EUA, Barack Obama — esbarra na questão dos refugiados e do “direito ao retorno”. De que forma a demografia palestina se apresenta como óbice para a consecução dessa proposta?

Extensão máxima: 60 linhas
(valor: 20 pontos)

PROVA ESCRITA DE GEOGRAFIA

Na prova a seguir, faça o que se pede, usando, caso julgue necessário, as páginas para rascunho constantes deste caderno. Em seguida, transcreva os textos para as respectivas folhas do **CADERNO DE TEXTOS DEFINITIVOS DA PROVA ESCRITA DE GEOGRAFIA**, nos locais apropriados, pois **não serão avaliados fragmentos de texto escritos em locais indevidos**. Em cada questão, respeite o limite máximo de linhas estabelecido.

No **caderno de textos definitivos**, identifique-se apenas na capa, pois **não serão avaliados** os textos que tenham qualquer assinatura ou marca identificadora fora do local apropriado.

QUESTÃO 1

A lavoura cafeeira foi o objetivo da ocupação de vastas áreas do território brasileiro. Apresente uma cronologia do movimento de expansão dessa cultura, identificando as regiões incorporadas no processo e caracterizando as relações de produção dominantes nos distintos períodos.

Extensão máxima: 90 linhas
(valor: 30 pontos)

QUESTÃO 2

Muitos economistas reconhecem a Índia e a China como as novas “locomotivas” (como se diz comumente no discurso jornalístico) da economia mundial. Estabeleça as semelhanças e as diferenças entre os modelos de desenvolvimento desses países, avaliando as vantagens comparativas e competitivas de cada um deles.

Extensão máxima: 90 linhas
(valor: 30 pontos)

QUESTÃO 3

O sistema de transportes no Brasil é composto pelas redes rodoviária (1.724.929 km de extensão), ferroviária (30.550 km) e hidroviária (cerca de 28.000 km de vias navegáveis). Discorra sobre as principais dificuldades apresentadas para a gestão desse sistema e suas implicações para o chamado “custo Brasil”.

Extensão máxima: 60 linhas
(valor: 20 pontos)

QUESTÃO 4

Até a década de 90 do século passado, a indústria automobilística paulista respondia por cerca de 75% da produção nacional de veículos. Hoje, essa participação corresponde a, aproximadamente, 45%. Considerando-se que a produção de automóveis em São Paulo é a mais alta de todos os tempos, como se explica essa redução?

Extensão máxima: 60 linhas
(valor: 20 pontos)

MINISTÉRIO DAS RELAÇÕES EXTERIORES INSTITUTO RIO BRANCO

CONCURSO DE ADMISSÃO À CARREIRA DE DIPLOMATA

PROVA ESCRITA DE GEOGRAFIA

Questão 1

A zona costeira do Brasil apresenta considerável diversidade de ecossistemas, com os espaços litorâneos compondo grandes conjuntos paisagísticos ao longo dos mais de 7.500 quilômetros da linha de costa do país. Identifique tais conjuntos, caracterizando suas paisagens típicas, e comente os elementos geográficos (naturais e sociais) recorrentes nas variadas porções do litoral brasileiro.

(valor da questão: 20 pontos)

Questão 2

Segundo dados de 2004 divulgados pelo IBGE, 25% do produto interno bruto (PIB) dos municípios brasileiros concentram-se em dez cidades, relacionadas, a seguir, em ordem decrescente do PIB: São Paulo (SP), Rio de Janeiro (RJ), Brasília (DF), Manaus (AM), Belo Horizonte (MG), Campos de Goytacazes (RJ), Curitiba (PR), Macaé (RJ), Guarulhos (SP) e Duque de Caxias (RJ). Considerando essas informações, explique a lógica espacial da distribuição da riqueza brasileira por setores de atividades.

(valor da questão: 20 pontos)

Questão 3

O Brasil possui uma reserva de água doce superficial estimada em 12% do total mundial. Apesar desse potencial, seu aproveitamento ainda é considerado bastante insatisfatório, na medida em que se verificam distribuição irregular e problemas de abastecimento. Identifique as principais dificuldades de gestão dos recursos hídricos no país e as medidas implementadas, na atualidade, pelo Governo brasileiro, para resolver a questão.

(valor da questão: 20 pontos)

Questão 4

Alterando o sentido decrescente de uma curva secular, a população rural européia e norte-americana começou a registrar crescimento nas últimas décadas, fato já visível também nos indicadores demográficos brasileiros. Identifique e comente os fatores explicativos desse movimento, discutindo os limites de tal tendência em cada contexto geográfico mencionado.

(valor da questão: 20 pontos)

Questão 5

Em 2004, o governo dos Estados Unidos da América lançou a concepção de um novo espaço estratégico denominado "Grande Oriente Médio", com o objetivo principal de promover a democratização e a adoção dos princípios do liberalismo econômico nessa região. Qual é a área geográfica abrangida por esse espaço estratégico e quais são as principais dificuldades geopolíticas encontradas pelos Estados Unidos para a implementação de seus objetivos no âmbito desse projeto?

(valor da questão: 20 pontos)

MINISTÉRIO DAS RELAÇÕES EXTERIORES INSTITUTO RIO BRANCO

CONCURSO DE ADMISSÃO À CARREIRA DE DIPLOMATA

PROVA ESCRITA DE GEOGRAFIA

Questão 1

A Região Nordeste do Brasil apresentou na última década algumas áreas de grande dinamismo econômico. Enumere e localize as atividades responsáveis por essa dinâmica e comente os fatores que explicam tal crescimento das economias locais.

Questão 2

Aponte as tendências atuais do transporte transoceânico, localizando as principais rotas de navegação e os grandes portos do mundo, indicando a influência das inovações técnicas nessa nova geografia da circulação mundial.

Questão 3

A seu ver, há razões geopolíticas que possam levar o Reino Unido a apoiar o rápido ingresso da Turquia na União Européia, em contraposição às reticências da França e à aparente indiferença alemã? Justifique sua resposta.

Questão 4

A noção de desenvolvimento sustentável representa um mecanismo teórico e operacional de harmonização da relação economia-ecologia. Significou também um importante instrumento político, por ocasião da Rio-92, ao conciliar os interesses dos defensores do desenvolvimento econômico com os dos ambientalistas. Explique o significado do conceito e sua aplicação nas relações sociedade-espaço.

Questão 5

Em 1982, reunidos em Montego Bay, na Jamaica, representantes da maior parte dos países adotaram a Convenção das Nações Unidas sobre o Direito do Mar, que definia a largura do Mar Territorial de 12 até 200 milhas. No caso brasileiro essa largura se ampliou, em alguns pontos do litoral, para 350 milhas, o que levou a Marinha do Brasil a denominar esse novo espaço de "Amazônia Azul". Essa nova fronteira marítima tem implicações para a geopolítica brasileira no Atlântico Sul? Justifique sua resposta.

**Ministério das Relações Exteriores
Instituto Rio Branco
Concurso de Admissão à Carreira de Diplomata**

Em 19 de junho de 2005

PROVA DE GEOGRAFIA

Examinadores:
Prof. Dr. Antônio Carlos Robert Moraes
Prof. Dr. André Roberto Martin

Valor de cada questão: 20 pontos
Extensão de cada resposta: até três páginas

Questão 1

Estabeleça um quadro panorâmico e comparativo entre as potencialidades da hidroeletricidade e da termoeletricidade no Brasil.

Questão 2

Na Amazônia brasileira, chama a atenção o elevado índice de população "urbana" presente na região. Como se pode explicar tal fenômeno?

Questão 3

Em um século e meio de economia industrial, os países do Hemisfério Norte foram responsáveis por cerca de 90% do volume de gases poluentes lançados na atmosfera. Esclareça como essa realidade foi encarada pelos participantes da "Conferência das Nações Unidas sobre o Meio Ambiente e Desenvolvimento" (Rio-92).

Questão 4

Comente a observação de Friedrich Ratzel de que "as ilhas se caracterizam em geral por uma grande homogeneidade étnica e de civilização de seus habitantes. Ao contrário, um território muito aberto favorece a miscigenação e o cruzamento dos povos".

Questão 5

Relacione a divisão climática do Brasil com as formações vegetais presentes no território nacional e avalie suas condições de conservação na atualidade.

CACD 2004
QUESTÕES DISCURSIVAS DE GEOGRAFIA

- 1) Clima, hidrografia e vegetação, costumam ser apresentados como fatores que conferem homogeneidade à grande região amazônica. No entanto, quando se considera o relevo, a diversidade se impõe. Descreva os principais patamares orográficos presentes na região e os sistemas de exploração econômica a eles associados.
- 2) A política exterior dos países ibéricos tem oscilado classicamente, entre o “atlantismo” e o “europeísmo”. Além disso, nem sempre Portugal e Espanha convergiram para a mesma posição. Reflita a respeito das conseqüências, para a Península, de cada uma das quatro opções estratégicas aí contidas.
- 3) Comente a cronologia de implantação da política ambiental brasileira, explicando as concepções que a presidiram em cada etapa identificada e apontando as instituições criadas em cada período.
- 4) A América Latina nas últimas décadas, foi deslocada pela Ásia como região mais dinâmica do planeta. Seria isto resultado direto do esgotamento da guerra fria, ou haveria outras razões, endógenas a cada continente, para explicar tal fenômeno?
- 5) Disserte a respeito da afirmação a seguir:
“A pujança do agronegócio brasileiro explica-se pela combinação de algumas “vantagens comparativas” e outras “competitivas”.

CACD 2003
QUESTÕES DISCURSIVAS DE GEOGRAFIA

Responda às questões que se seguem. A resposta a cada questão não deverá exceder a duas páginas. Cada questão vale 20 pontos.

- 1) Dos biomas brasileiros, a caatinga é o que apresenta menor número de ações de proteção ambiental, o que se expressa na pequena quantidade de unidades de conservação existente neste domínio. Contudo, estudos contemporâneos atestam a grande importância de sua biodiversidade. Explique o fundamento desse juízo, e aponte os vetores antrópicos de maior impacto na utilização atual da caatinga.
- 2) Comente as possibilidades de integração sul-americana sob o ponto de vista das fontes e sistemas de geração de energia, apontando as relações já existentes nesse campo.
- 3) O peso dos produtos primários nas exportações brasileiras contrasta vivamente com a imagem habitual de "país essencialmente urbano". Comente este aparente paradoxo à luz das novas interpretações acerca das relações cidade/campo no Brasil contemporâneo.
- 4) Disserte a respeito das origens, apogeu e crise do conceito de "Terceiro Mundo".
- 5) A tropicalidade brasileira sofre alterações regionais, segundo a ação de fatores tais como: latitude, altitude, e continentalidade. Estabeleça uma correlação entre tais variações e a divisão oficial do Brasil em "macro-regiões", estabelecida pelo IBGE em 1969.